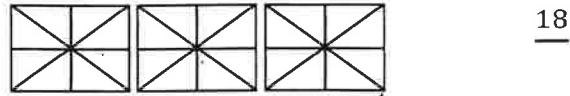

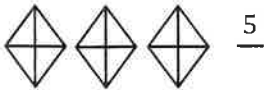
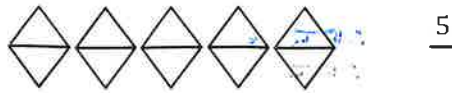
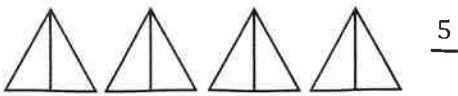


CM2 Pour jeudi 03/04

Complète avec le bon dénominateur puis, colorie les fractions demandées. Entoure celles qui sont plus grandes que 2.



Pour vendredi 04/04

Complète avec les signes > ou < ou =.

$\frac{2}{3} \dots 1$	$\frac{4}{5} \dots 1$	$\frac{7}{5} \dots 1$	$\frac{6}{6} \dots 1$	$\frac{12}{10} \dots 1$
$\frac{8}{3} \dots 1$	$\frac{4}{4} \dots 1$	$\frac{6}{5} \dots 1$	$\frac{3}{10} \dots 1$	$\frac{6}{7} \dots 1$

CM1 Pour jeudi 03/04

Entoure les fractions plus grandes que 1 unité.

$\frac{2}{5}$     $\frac{18}{2}$     $\frac{6}{5}$     $\frac{4}{3}$     $\frac{9}{10}$     $\frac{4}{6}$     $\frac{10}{12}$     $\frac{2}{6}$     $\frac{8}{10}$     $\frac{10}{12}$     $\frac{8}{5}$     $\frac{6}{4}$     $\frac{70}{30}$

Pour vendredi 04/04

Entoure les fractions plus petites que 1 unité.

$\frac{4}{6}$     $\frac{11}{5}$     $\frac{6}{3}$     $\frac{4}{7}$     $\frac{5}{4}$     $\frac{4}{5}$     $\frac{10}{12}$     $\frac{8}{9}$     $\frac{6}{5}$     $\frac{130}{200}$     $\frac{20}{5}$     $\frac{1}{5}$     $\frac{4}{9}$